


제 4 교시

직업탐구 영역 (상업 경제)

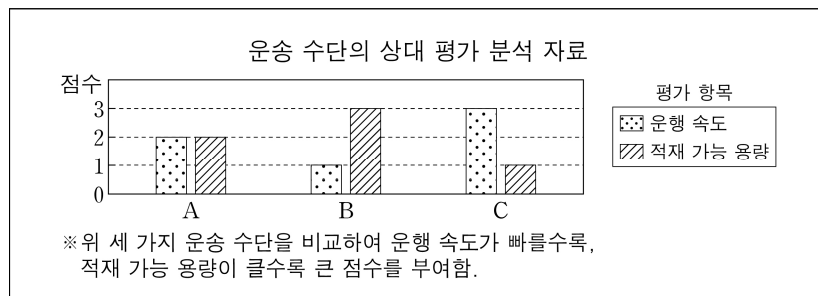
성명		수험 번호	—		제〔 〕선택
----	--	-------	---	--	-----------

1. 다음은 국제 환경 협약을 주제로 제작한 카드 뉴스이다. 이와 관련된 국제 환경 협약으로 적절한 것은?



- ① 빈 협약 ② 바젤 협약
③ 생물 다양성 협약 ④ 사막화 방지 협약
⑤ 파리 기후 변화 협약

2. 다음은 운송 수단의 상대 평가 분석 자료이다. 운송 수단 A~C에 대한 설명으로 적절한 것만을 <보기>에서 있는 대로 고른 것은?
(단, A~C는 기차, 항공기, 화물선 중 각각 하나에 해당한다.)



-<보 기>-

- ㄱ. A는 문전 운송에 적합하다.
 ㄴ. C는 A보다 기후의 영향을 더 많이 받는다.
 ㄷ. B와 C는 화물차보다 근거리 운송에 주로 이용된다.

- ① \neg ② \perp ③ \neg, \perp ④ \perp, \perp ⑤ \neg, \perp, \perp

3. 다음 사례를 통해 알 수 있는 보험에 대한 설명으로 적절한 것은? [3점]

- A 씨는 2025년 ○○기업의 회사원으로, 국민건강보험공단이 운영하는 보험에 가입되어 있어 질병 치료에 따른 보험 급여를 받아 진료비 부담이 줄어든다.
- B 씨는 2025년 △△기업의 직원으로, 노령, 장애 또는 사망에 대해 국민의 생활 안정과 복지 증진 등 사회 정책상의 목적을 달성하기 위해 공공 기관이 운영하는 보험에 가입되어 있다.

- ① A 씨는 인보험에, B 씨는 물보험에 가입되어 있다.
- ② A 씨는 납부한 보험료에 비례하여 보험 급여를 받는다.
- ③ B 씨가 보험 가입 시 △△기업은 보험 가액을 산정한다.
- ④ ○○기업과 A 씨는 같은 비율로 보험료를 부담한다.
- ⑤ ○○기업과 △△기업은 피보험 이익을 갖는 보험 당사자이다.

4. 다음은 ○○국의 연도별 생산 관련 자료이다. 이에 대한 설명으로 옳은 것만을 <보기>에서 있는 대로 고른 것은? (단, GDP 기준 연도는 2020년이고, 책상과 의자만 생산한다.) [3점]

2020년 ○○국의 실질 GDP는 US \$100이고, 책상과 의자의
개당 가격은 각각 US \$2이었다. 이후 2021년~2023년 책상,
의자의 연도별 생산량과 개당 가격은 아래와 같다.

(단위 : 개, US \$)

구분	2021년		2022년		2023년	
	생산량	개당 가격	생산량	개당 가격	생산량	개당 가격
책상	25	2	30	3	30	3
의자	30	2	25	4	30	3

—〈보기〉

- ㄱ. 2021년 명목 GDP는 2020년의 명목 GDP보다 크다.
 ㄴ. 2021년 경제 성장률은 2022년의 경제 성장률보다 낮다.
 ㄷ. 2021년~2023년 중 실질 GDP가 가장 큰 연도는 2023년이다.

- ① \neg ② \perp ③ \neg, \perp ④ \perp, \perp ⑤ \neg, \perp, \perp

5. 다음 [상업의 주체] (가), (나)를 활용하여 [학습 활동]을 수행하였을 때 최종 도착지로 옳은 것은?

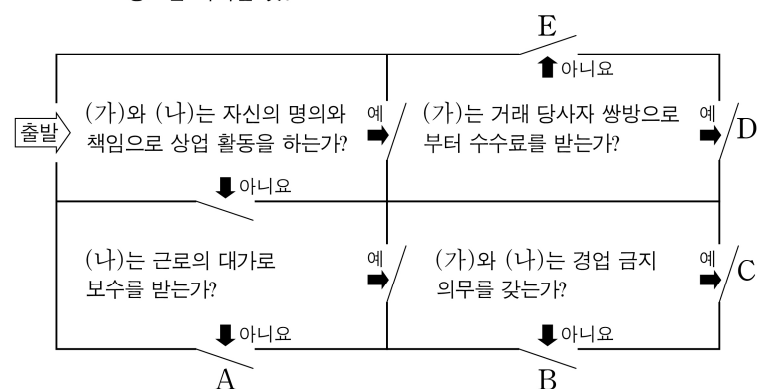
[상업의 주체]

	(가)	(나)
특징	특정 상인을 위하여 거래를 계속적으로 대리함.	특정 상인에게 종속되어 대외적인 영업 활동을 보조함.

[학습 활동]

위 (가), (나)에 들어갈 상업의 주체를 활용하여 아래 게임 판의 규칙에 따라 최종 도착지를 찾으시오.

규칙 출발 지점에서 시작하여 물음에 대한 답 ‘예/아니요’를 선택해 경로를 따라갈 것.



- ① A ② B ③ C ④ D ⑤ E

2 (상업 경제)

직업탐구 영역

6. 다음은 ○○기업의 해외 시장 진출에 대한 뉴스이다. 이에 해당하는 해외 시장 진출 전략으로 적절한 것은?

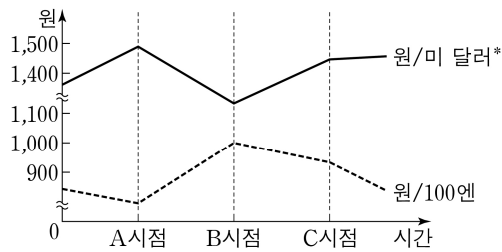


○○기업이 △△국에 1,300억 원 규모의 수력 발전소를 건설하고 30년간 운영을 통해 사업비를 회수한 후 양도하는 방식으로 해외 시장에 진출한다고 밝혔습니다. 기업 관계자는 이번 사업에 최선을 다해 임할 것이라고 하였습니다.

- ① 계약 생산 ② BOT 방식 ③ 국제 라이선싱
④ 경영 관리 계약 ⑤ 턴키 계약 방식

7. 다음은 환율과 관련된 자료이다. 이를 분석한 내용으로 적절한 것만을 <보기>에서 있는 대로 고른 것은? [3점]

[자료 1] 각국 통화 대비 원화 가치 변동 그래프



[자료 2] C 시점의 대고객 환율

	고객이 현찰 살 때	고객이 현찰 팔 때
100엔당 원화	950.43	900.27
미화 1달러당 원화	1,500.44	1,400.86

<보 기>

- ㄱ. 환율만을 고려할 때, 엔화를 원화로 환전 시 [자료 1]의 B 시점보다 A 시점에서 더 많은 원화를 받는다.
ㄴ. 환율만을 고려할 때, [자료 1]의 B 시점보다 C 시점에서 우리나라가 미국으로 수출한 상품의 가격 경쟁력이 높다.
ㄷ. [자료 1]에 있는 C 시점의 원/미 달러 기준 환율을 활용하여 [자료 2]의 미화 1달러당 원화로 표시된 대고객 환율을 결정한다.

- ① ㄱ ② ㄴ ③ ㄱ, ㄷ ④ ㄴ, ㄷ ⑤ ㄱ, ㄴ, ㄷ

8. 다음 A, B 기관의 경제 활동 사례에 나타난 유가 증권이 갖는 공통점으로 적절한 것은? [3점]

구분	내용
A 기관의 투자 사례	A 기관은 ○○기업이 단기 자금을 조달하기 위해 자기신용을 바탕으로 발행한 어음을 투자 목적으로 종합 금융 회사를 통해 매입하였다.
B 기관의 결제 사례	중고 컴퓨터를 판매하는 B 기관은 △△상점으로부터 컴퓨터 부품을 구매하고 추후 구매 대금 지급을 약정하는 어음을 발행하여 결제하였다.

- ① 만기(滿期)가 있다.
② 상업 어음에 속한다.
③ 배서 양도가 불가능하다.
④ 지급 위탁의 성격을 가진 증권이다.
⑤ 지급인의 인수 거절 시 부도가 난다.

9. 다음은 SWOT 분석에 대한 설명이다. (가), (나)에 포함될 수 있는 기업 환경 요인으로 적절한 것은?

SWOT 분석은 기업의 환경을 분석하여 효율적인 마케팅 전략을 수립하는 데 활용되는 기법이다. 이는 기업의 (가) 을/를 중심으로 강점(S)과 약점(W) 요인을 파악하고, 기업의 (나) 을/를 중심으로 기회(O)와 위협(T) 요인을 파악한다. 그리고 각 요인들을 결합하여 기업의 마케팅 목표에 맞는 최적의 전략을 도출한다.

(가)

(나)

- ① 정부 규제의 완화 자사의 자금력
② 정부 규제의 완화 소비자의 욕구 변화
③ 소비자의 욕구 변화 자사의 특허권 보유 수
④ 자사의 특허권 보유 수 자사의 자금력
⑤ 자사의 특허권 보유 수 소비자의 욕구 변화

- [10~11] 다음은 A 기업의 경영 전략이다. 물음에 답하시오.

식품 회사인 A 기업은 2024년 대비 2025년 경영 전략을 아래와 같이 변경하였고, 경영 전략 수행에 필요한 자금을 당사 주식 거래되는 KOSDAQ 시장을 통해 조달하기로 하였다.

A 기업의 연도별 경영 전략

구분	2024년	2025년
기업 집중 형태	타 식품 회사와 경제적·법률적 독립성을 유지하는 기업 집중 시행	타 식품 회사의 경제적·법률적 독립성이 상실되는 기업 집중 시행
식품 판매 가격	이폭률을 10%로 유지 (단, 판매 가격은 10,000원, 영업비는 600원)	이폭률을 2024년보다 2%p 상향 조정(단, 판매 가격과 영업비는 2024년과 동일)

10. 위 A 기업이 2024년 대비 2025년 경영 전략에 따라 선택할 수 있는 활동으로 적절한 것만을 <보기>에서 있는 대로 고른 것은? (단, 2024년과 2025년의 기업 집중 형태는 각각 카르텔, 콘체른, 트러스트 중 하나에 해당한다.) [3점]

<보 기>

- ㄱ. 시장 독점을 위해 타 식품 회사를 흡수 합병
ㄴ. 대외 시장 통제를 위해 타 식품 회사와 판매 활동 연합
ㄷ. 매입 원가에서 200원을 줄일 수 있는 거래처 선정

- ① ㄱ ② ㄴ ③ ㄱ, ㄷ ④ ㄴ, ㄷ ⑤ ㄱ, ㄴ, ㄷ

11. 위 A 기업이 필요한 자금을 조달하기 위해 선택할 수 있는 자금 조달 방안으로 적절한 것은?

- ① 보유 중인 자사주를 장내 매도한다.
② 주주에게 현금 대신 주식을 배당한다.
③ 제3자 배정으로 주식을 유상 증자한다.
④ 투자자를 대상으로 수익 증권을 발행한다.
⑤ 기업 공개(IPO)를 실행하여 투자자를 모집한다.

12. 다음은 금융통화위원회의 가상 회의 장면이다. 기준금리를 (가)와 같이 시행했을 때와 동일한 효과를 얻을 수 있는 한국은행의 공개 시장 운영 수단으로 적절한 것은? (단, 시중 통화량만 고려한다.) [3점]



- ① 국·공채를 매입한다.
- ② 통화 안정 증권을 발행한다.
- ③ 금융 기관의 지급 준비율을 높인다.
- ④ 금융 기관에 통화 안정 계정 금액을 인출하게 한다.
- ⑤ 금융 기관의 중소기업 대출 등을 지원하는 대출금을 줄인다.

13. 다음은 수출업체 A기업이 수입업체 B, C기업과의 무역 거래 과정에서 작성한 대금 결제 관련 업무 일지이다. 이에 대한 설명으로 옳은 것만을 <보기>에서 고른 것은? [3점]

업무 일지		
작성자: A 기업		
구분	일자	업무 내용
B 기업	3월 6일	일람 출금 환어음의 지급인인 B기업이 ○○은행에 대금을 지급하고 선적 서류를 받았음을 알려 줌.
	3월 10일	○○은행이 송금한 대금을 당사가 대금 지급 요청을 의뢰했던 △△은행으로부터 받음.
C 기업	3월 6일	△△은행이 ○○은행의 대금 지급 보증서가 도착함을 알려 줌.
	4월 20일	환어음과 선적 서류를 첨부하여 △△은행에 매입을 요청하고 대금을 받음.

-<보 기>-

- ㄱ. B기업과의 거래에서 대금 결제 조건을 지급 시기에 따라 구분하면 동시 지급 조건이다.
- ㄴ. C기업과의 거래에서 환어음의 수취인은 △△은행이다.
- ㄷ. ○○은행은 두 거래 모두 매매 계약서와 선적 서류의 일치성을 확인한 후 대금을 지급한다.
- ㄹ. △△은행은 B기업과의 거래에서 추심 은행, C기업과의 거래에서 통지 은행이다.

- ① \neg, \perp ② \neg, \sqsubset ③ \perp, \sqsubset ④ \perp, \sqsupset ⑤ \sqsubset, \sqsupset

14. 다음은 ○○기업의 홈페이지 게시판에 접수된 내용이다. 현황 대비 개편 방안을 모두 반영할 경우 ○○기업의 조직 형태 변화 양상으로 가장 적절한 것은?

OO기업 게시판

< > ↻ 🔒

우리 기업 조직 형태의 현황과 개편 방안에 대한 의견 수렴

현황

☎ 현재 우리 기업은 부서별 전문화를 통해 업무를 진행하고 있지만, 그로 인해 간접 비용이 증가하여 조직 개편이 필요합니다.

개편 방안

☎ 구성원 간 통합적 협력을 추진할 수 있는 조직이 되어야 합니다.

☎ 조직 구성원 한 사람이 두 부서에서 동시에 소속되어 필요에 따라 업무 처리를 효율적으로 할 수 있는 조직으로 개편해야 한다고 생각합니다.

- ① 기능식 조직에서 매트릭스 조직으로 변화된다.
- ② 기능식 조직에서 네트워크 조직으로 변화된다.
- ③ 네트워크 조직에서 매트릭스 조직으로 변화된다.
- ④ 사업부제 조직에서 네트워크 조직으로 변화된다.
- ⑤ 사업부제 조직에서 매트릭스 조직으로 변화된다.

[15~16] 다음은 ○○(주) 주식의 매매 관련 자료이다. 물음에 답하시오.

[자료 1] 3월 25일 KOSPI 시장에서 ○○(주) 주식의 주문 상황

매도 주문 상황

주문자	시간	수량(주)	호가(원)
A 씨	09:00	50	65,000
B 씨	11:30	200	68,000
C 씨	14:04	100	72,000
D 씨	14:08	50	70,000
E 씨	15:19	50	70,000

매수 주문 상황

주문자	시간	수량(주)	호가(원)
F 씨	09:00	50	65,000
G 씨	11:20	80	68,000
H 씨	11:21	130	68,000
I 씨	14:02	100	72,000
J 씨	14:06	50	70,000

- 단, 3월 25일 거래 당일 최초로 체결된 가격은 전일 증가 대비 3,000원 하락함.

[자료 2] 3월 25일 ○○(주) 주식의 주식 시세표

주식 시세표					
KOSPI 지수 2,615.81(▼16.26)			(단위: 원)		
종목명	시가	고가	저가	종가	전일비
○○(주)	65,000	×××	×××	70,000	(가)

15. 위 [자료1]과 [자료2]를 분석한 내용으로 옳은 것만을 <보기>에서 고른 것은? (단, 제시된 자료 외에는 고려하지 않는다.) [3점]

-〈보기〉-

- ㄱ. E 씨의 매도 주문은 당일 종가에 체결된다.
 ㄴ. G 씨의 매수 주문은 시간 우선의 원칙에 따라 H 씨보다 먼저 체결된다.
 ㄷ. (가)에 들어갈 내용은 ‘▲5,000’이다.
 ㄹ. 당일 최대 가격 변동 폭은 7,000원이다.

- ① \neg, \bot ② \neg, \sqsubset ③ \bot, \sqsubset ④ \bot, \sqsupset ⑤ \sqsubset, \sqsupset

16. 위 A~J씨의 거래 상황에 나타난 경쟁 매매의 종류로 옳은 것은?

- ① 경매 ② 경매매 ③ 역경매
④ 입찰 매입 ⑤ 입찰 판매

4 (상업 경제)

직업탐구 영역

17. 다음 두 가지 사례를 통해 알 수 있는 전자 상거래 유형에서 공통적으로 나타난 경제 주체에 대한 설명으로 적절한 것은?

- A 씨는 가족 여행을 준비하면서 마음에 드는 숙소를 ○○(주) 호텔 예약 플랫폼을 활용하여 예약하고 결제하였다.
- B 기업은 조달청의 나라장터* 사이트를 통해 △△시청에 프린터 공급 사업자로 낙찰받아 계약을 체결하고, 납기일에 맞춰 프린터 배송 후 대금을 수령하였다.

* 공공 기관의 조달 과정을 온라인에서 처리하는 전자 조달 시스템

- ① 효용의 극대화를 추구한다.
- ② 공공 경제를 구성하는 주체이다.
- ③ 생산물 시장에서 수요자 역할을 한다.
- ④ 재화를 생산하는 데 필요한 생산 요소를 제공한다.
- ⑤ 노동, 자본, 토지 등에 대한 이용 대가를 분배한다.

18. 다음 [A 씨의 금융 상품 투자 현황]에 [전문가 조언]을 모두 반영한 결과에 대한 설명으로 적절한 것만을 <보기>에서 있는 대로 고른 것은? (단, 제시된 자료 외에는 고려하지 않는다.) [3점]

[A 씨의 금융 상품 투자 현황]

A 씨가 보유 자금 1,000만 원을 활용하여 투자한 금융 상품과 금액은 다음과 같다.

금융 기관	금융 상품	투자 금액(만 원)
지방 은행	정기 예금	250
증권 회사	국채	200
	보통주	150
새마을금고	정기 적금	200
시중 은행	보통 예금	200

[전문가 조언]

위 현황의 금융 상품 내에서 투자 금액을 다음과 같이 조정할 것을 제안함.

- 요구불 예금에서 100만 원을 인출하여 인출한 금액 모두 배당을 받을 수 있는 금융 상품에 투자
- 일반 은행의 저축성 예금을 전액 해지하고 인출한 금액을 모두 만기가 있는 자본 증권에 투자

<보 기>

- ㄱ. 이자를 받을 수 있는 금융 상품의 총 투자 금액은 750만 원 이다.
- ㄴ. 지분 증권에 속하는 금융 상품의 총 투자 금액은 비은행예금 취급기관의 금융 상품의 총 투자 금액보다 작다.
- ㄷ. 예금자보호법에 의해 보호받는 금융 상품의 총 투자 금액은 간접 금융 시장에서 거래되는 금융 상품의 총 투자 금액과 같다.

- ① ㄱ
- ② ㄴ
- ③ ㄱ, ㄷ
- ④ ㄴ, ㄷ
- ⑤ ㄱ, ㄴ, ㄷ

19. 다음은 A, B 기업 간 무역 계약 체결 과정이다. 구매 청약서 대비 매매 계약서에 따라 나타날 수 있는 현상으로 적절하지 않은 것은? (단, 가격 조건은 인코텀스 2010에 의하고, 해상 적하 보험은 체결된 것으로 전제한다.) [3점]

우리나라 A 기업은 미국의 B 기업에 사과 구매를 위해 다음과 같은 조건으로 청약함.

품목	사과	수량 조건	50 kg
품질 조건	FAQ	가격 조건	FOB 뉴욕항
대금 결제 조건	T/T	분쟁 해결 조건	소송



B 기업은 A 기업의 구매 청약에 대해 가격 조건은 부산항 도착 운임·보험료 포함 조건, 분쟁 해결 조건은 중재로 변경해 줄 것을 반대 청약함.



A 기업은 B 기업의 반대 청약 내용을 모두 수용하여 매매 계약서를 작성함.

- ① A 기업의 비용 이전 분기점은 변경될 것이다.
- ② 수출 통관 업무를 수행하는 주체는 B 기업으로 동일할 것이다.
- ③ B 기업에서 수출하는 사과의 품질 결정 시기는 선적 시점으로 동일할 것이다.
- ④ 해상 적하 보험에서 피보험자는 B 기업에서 A 기업으로 변경될 것이다.
- ⑤ A, B 기업의 분쟁 해결 조건은 제3자 개입에 의한 해결 방법으로 동일할 것이다.

20. 다음은 경제 통합에 대해 사용자가 AI와 나눈 대화이다. (가)에 들어갈 수 있는 내용으로 적절한 것만을 <보기>에서 고른 것은? (단, 경제 통합 단계는 B. Balassa의 분류에 의한다.)

사용자

2024년에 A 국은 경제 협정을 체결하지 않았고, B 국과 C 국은 FTA협정을 발효했어. 2025년에는 A 국은 공동 시장 협정을 발효한 B, C 국과 관세 동맹 협정을 발효했어. 이 경우 A~C 국 간 어떤 경제 현상이 나타나는지 알려 줄래?

AI

예, 사용자가 말씀하신 내용을 그림으로 정리하면 다음과 같습니다.

[2024년] [2025년]

2024년과 2025년에 A~C 국 간 나타날 수 있는 경제 현상은 (가) 할 것입니다.

<보 기>

- ㄱ. 2024년에 B, C 국은 A 국에 대해 공동 관세율을 부과
- ㄴ. 2025년에 A 국은 B, C 국과 공동 금융 정책을 수립
- ㄷ. 2024년 대비 2025년에 A 국은 B, C 국과 역내 관세를 철폐
- ㄹ. 2024년 대비 2025년에 B 국과 C 국 간 생산 요소가 자유롭게 이동

- ① ㄱ, ㄴ
- ② ㄱ, ㄷ
- ③ ㄴ, ㄷ
- ④ ㄴ, ㄹ
- ⑤ ㄷ, ㄹ

* 확인 사항

- 답안지의 해당란에 필요한 내용을 정확히 기입(표기)했는지 확인 하시오.